

NOM :


Prénom :

Classe :

PRODUCTION CARTOGRAPHIQUE - 6^e

Exercice 1. Complétez la légende d'un croquis d'une photographie.

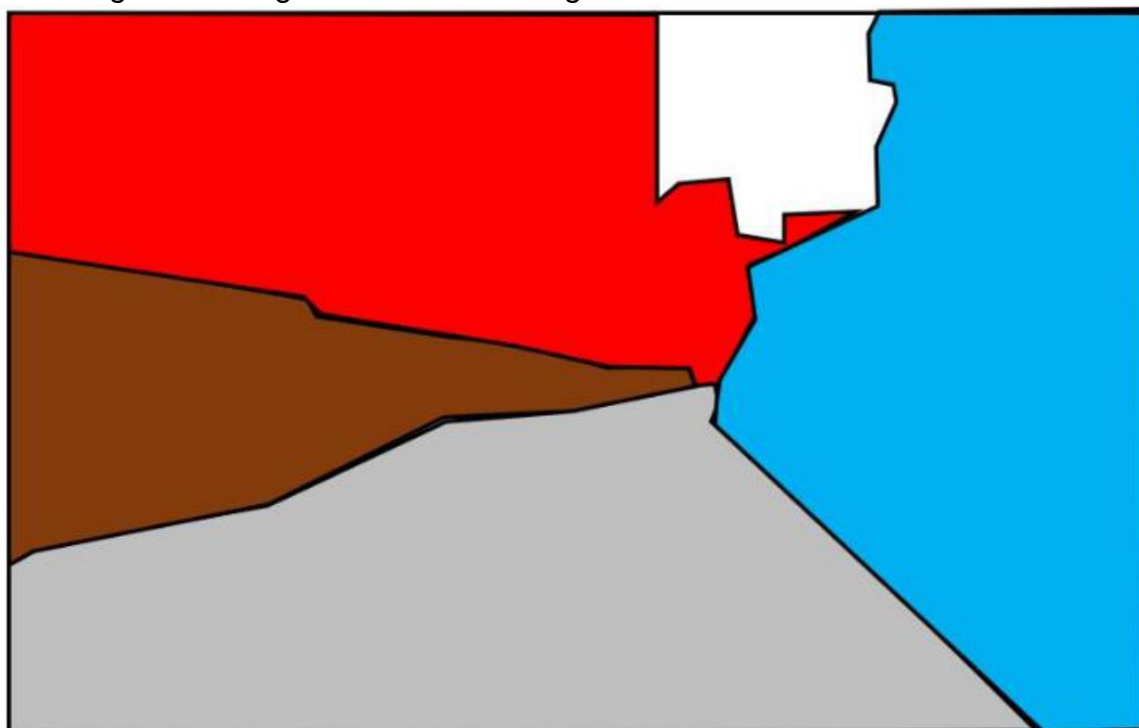
La rue du Dr José Augusto de Souza e Silva à Sao Paulo (Brésil).



credit image : Capture d'écran streetview, www.google.fr.

La rue sépare 2 quartiers de Sao Paulo : le quartier Jardim Parque Morumbi (à gauche) et le quartier Paraisópolis (à droite).

Associe le bon figuré à sa signification dans la légende



Rouge

Bleu

Gris

Marron

Mur

Rue

Quartier riche de Jardim

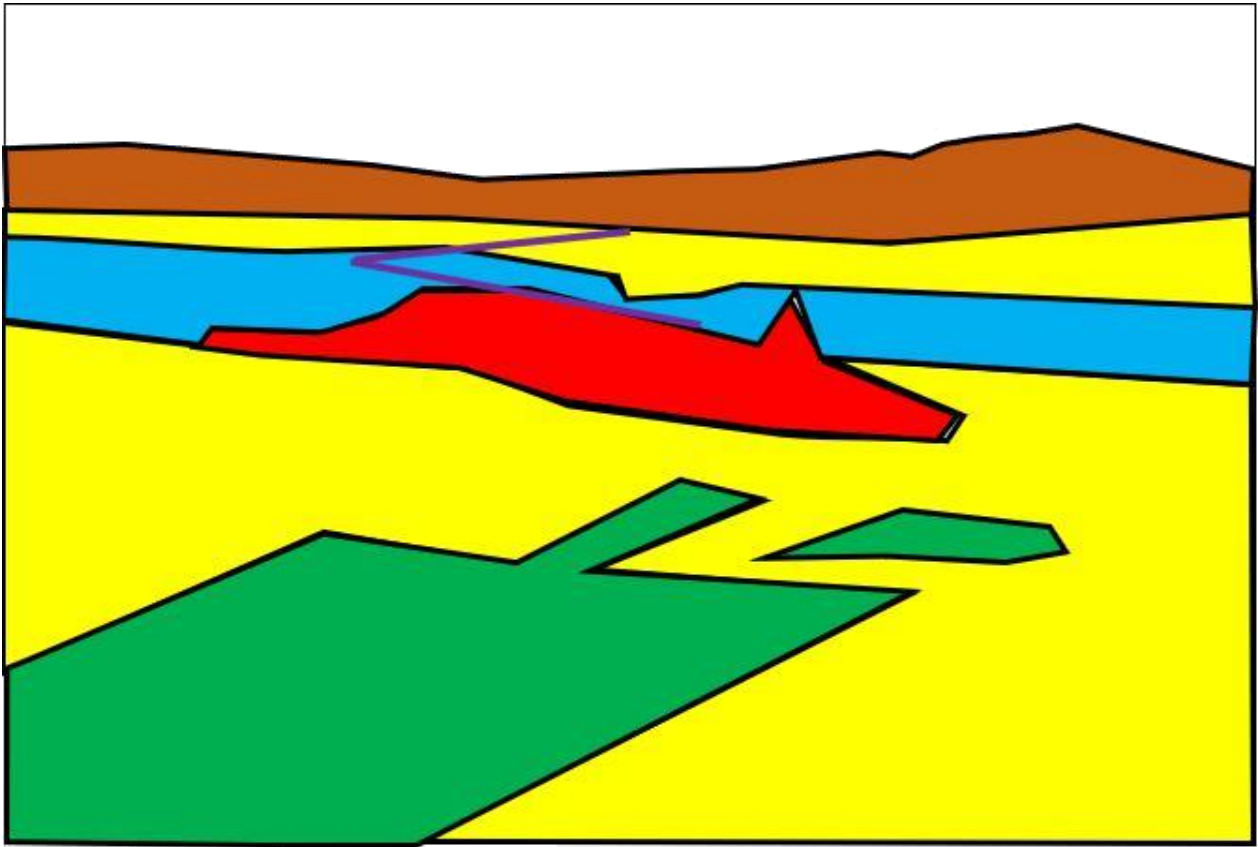
Bidonville de Paraisopolis

Exercice 2. Créer la légende d'un croquis.

San Francisco (Etats Unis), vu du ciel.



credit image : [https://fr.wikipedia.org/wiki/Fichier:Golden_Gate_Park_and_The_Panhandle_\(5189323840\).jpg](https://fr.wikipedia.org/wiki/Fichier:Golden_Gate_Park_and_The_Panhandle_(5189323840).jpg)



1. Identifie le bon figuré cartographique utilisé pour réaliser ce croquis.

Tu dois écrire le figuré choisi pour chaque proposition.

Précise à chaque fois si c'est une zone ou une ligne et sa couleur.

- Centre-ville (quartiers des affaires) :



- Banlieues pavillonnaires (maison) :



- Baie d'Oakland :



- Parc et espace de loisirs :



- Pont qui relie le centre aux banlieues :



- Montagnes :



2. Choisis le bon titre pour ce croquis.

- Croquis de San Francisco, une métropole nord-américaine
- San Francisco, une métropole nord-américaine
- Carte de San Francisco, une métropole nord-américaine